



RECURSOS DIDÁCTICOS

TERCERO DE SECUNDARIA

GEOGRAFÍA

OCEANÍA - OROGRAFÍA

❖ RELIEVE

En Australia que es la unidad geográfica más grande de Oceanía se observan los siguientes accidentes geográficos:

1. La Gran Barrera de Arreafe Coralino
2. Gran Cordillera divisoria (paralela al litoral oriental) y Alpes Australianos
3. El río Darling, principal afluente del Murray
4. Río Murray
5. Isla Tasmania
6. Llanura de Nurallbor
7. Lago Eire
8. Montes Mac Donell
9. Montes Kimberly
10. Tierra de Arnhem
11. Península de Cabo York

DESIERTOS

- A. Arena
- B. Victoria
- C. Simpson
- D. Gibson

❖ LITORAL

- Mar Timor (Costa Nor Occidental de Australia)
- Golfo de Carpentaria (Oeste del Cabo de York)
- Mar de Arafura
- Estrecho Torres
- Mar de Tasmania
- Estrecho Bass
- Gran Bahía Australiana
- Isla del Norte (Nueva Zelandia)
- Estrecho Cook
- Isla del Sur (Nueva Zelandia)



❖ POBLACIÓN Y GRUPOS ÉTNICOS

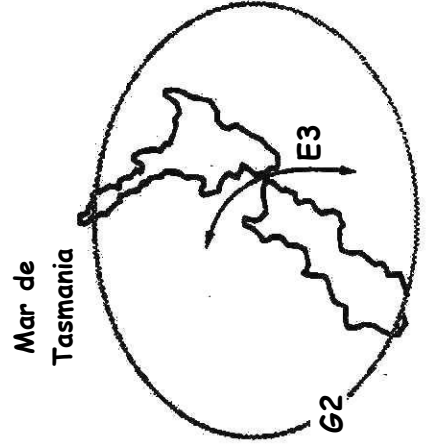
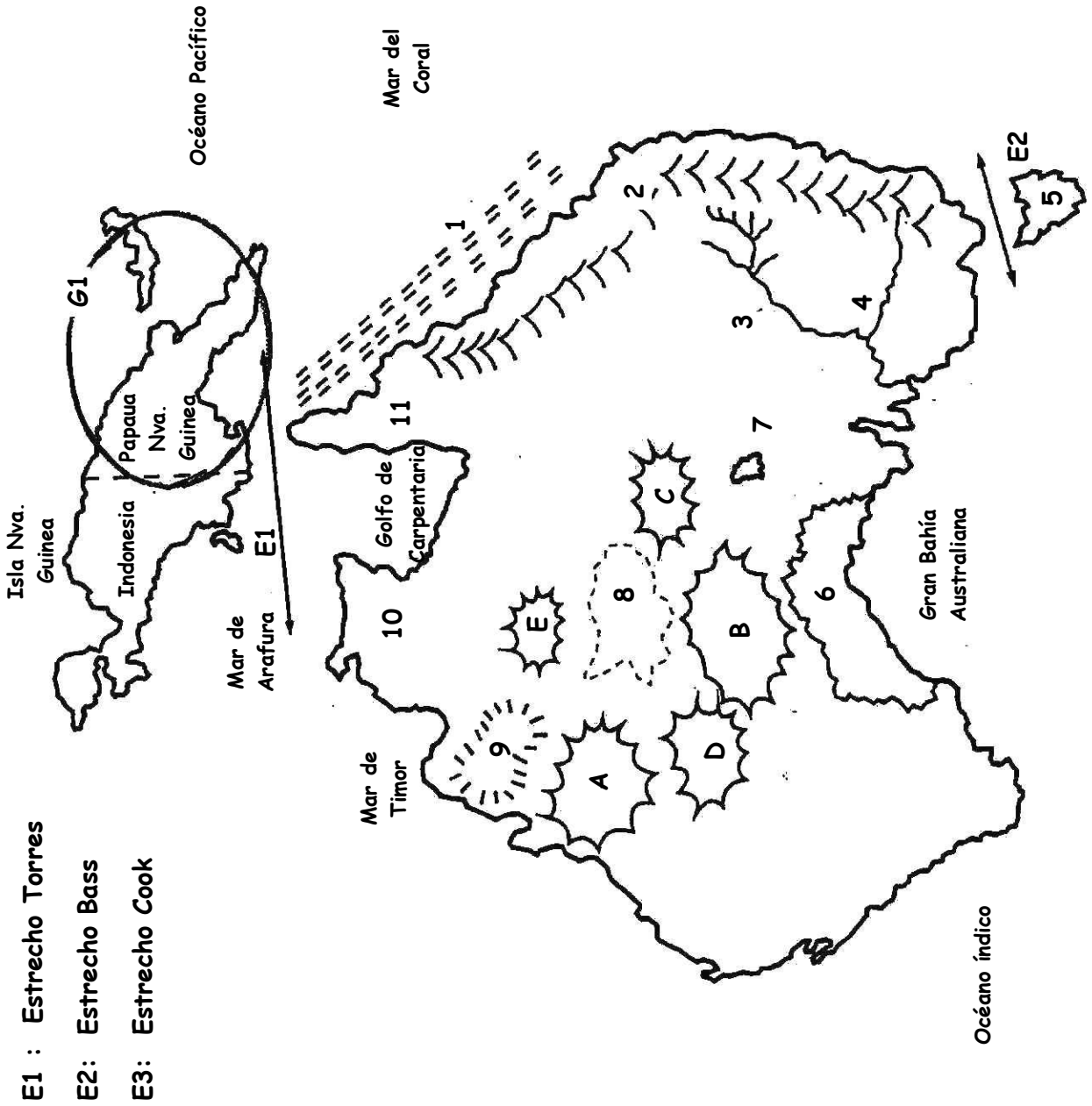
Oceanía tiene una población de 30 253 000 habitantes (no incluye a la población de Hawai), con una densidad promedio de 3,2 Hab/km².

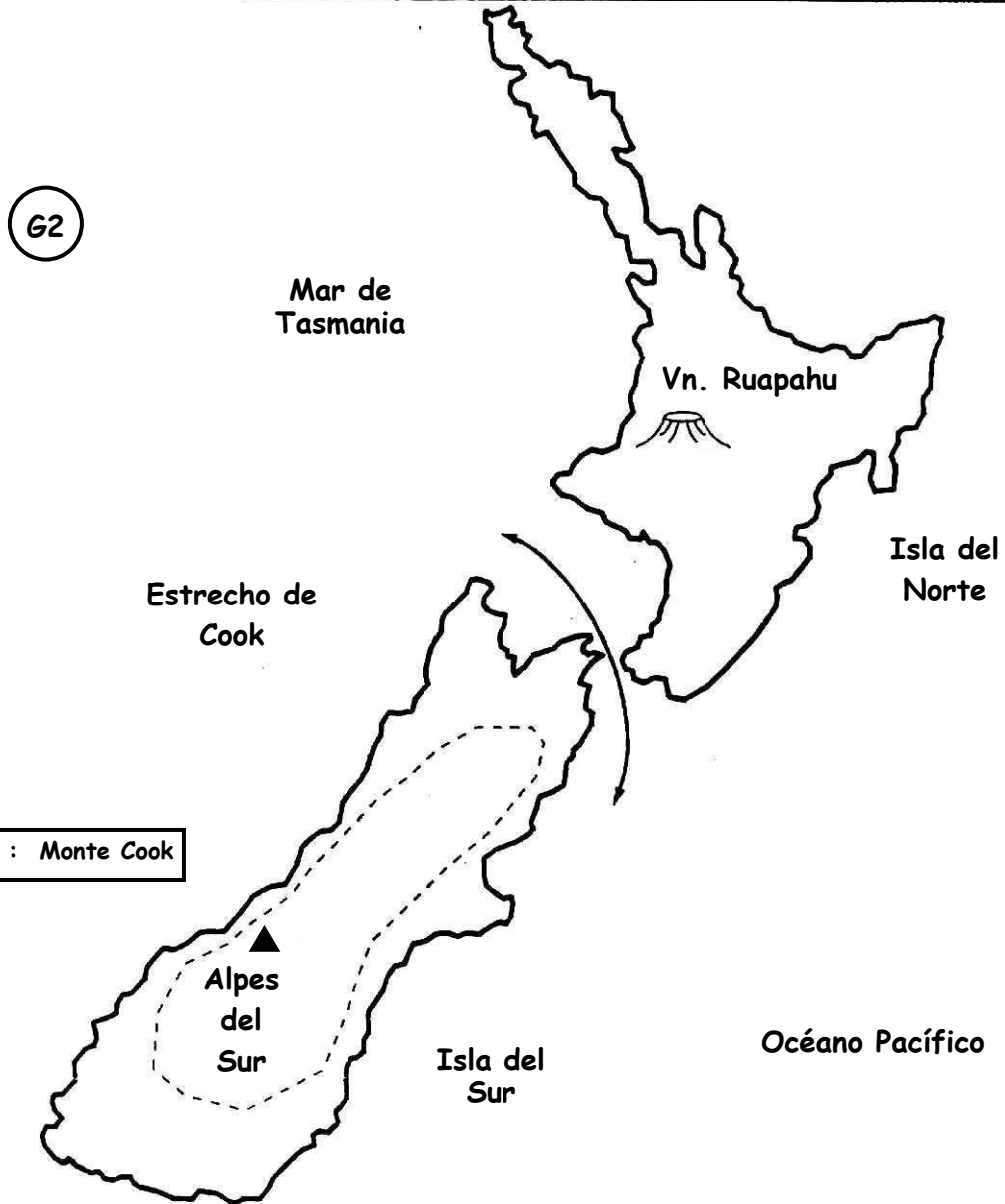
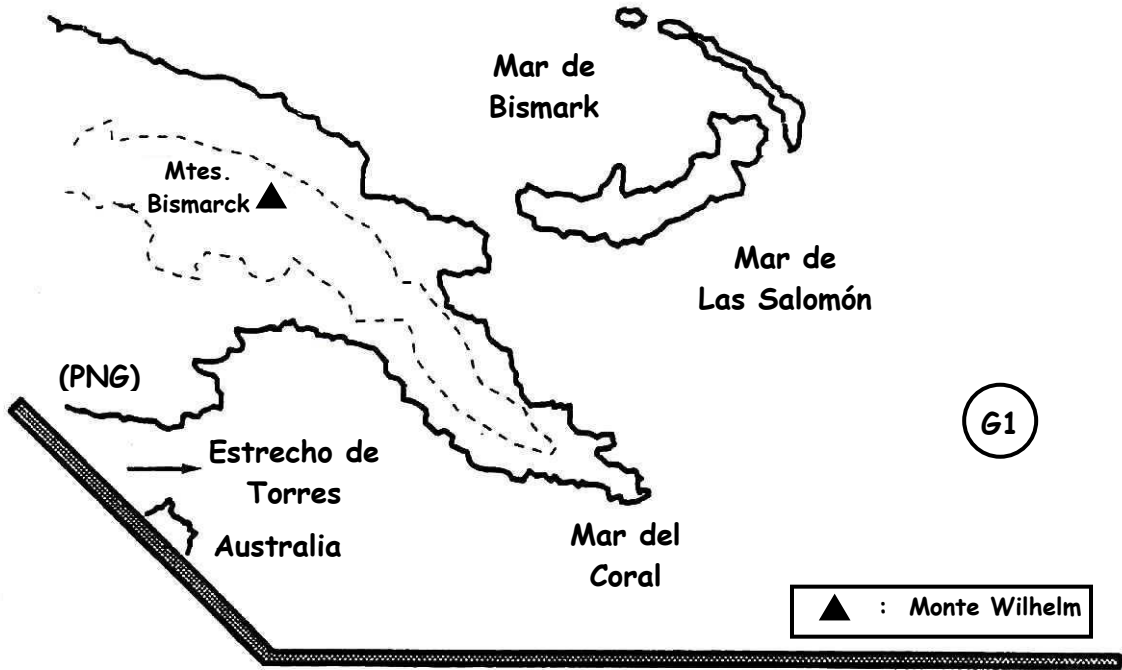
Es Australia y Nueva Zelandia predomina población blanca. En el resto de Oceanía la población es nativa.

- **Indígenas Primitivos** : Tasmánidos y Australidos
- **Melanesicos** : Papues, Melanésicos
- **Polinesicos** : Mezcla de diferentes etnias como mongoloides
- **Malayos** : Descendientes de etnias mongoloides

Paisajes Australianos

1. Gran Barrera de Arrecife _____
 2. Gran Cordillera Divisoria _____
 3. Río _____
 4. Río _____
 5. _____
 6. Llanura de Nullarbor _____
 7. Lago _____
 8. Montes Mcdonell _____
 9. Meseta Kimberley _____
 10. Tierra de Arnhem _____
 11. Península de Cabo York _____
- A. Desierto _____
- B. Desierto _____
- C. Desierto _____
- D. Desierto _____
- E. Desierto _____





Tarea Complementaria

Nº 6

1. País oceánico en la isla Nueva Guinea _____
2. Mar al Norte de Australia _____
3. Estrecho entre Nueva Guinea y Australia _____
4. Montes en Papúa Nueva Guinea _____
5. Mar al N.E. de Australia _____
6. Bahía al Sur de Australia _____
7. País al Sur Este de Australia _____
8. Mar al Nor Oeste de Australia _____
9. Océano al Este de Australia _____
10. Estrecho en Nueva Zelanda _____
11. Lago en Australia _____
12. Los Alpes del Sur están en _____
13. La gran cordillera está al _____ de Australia
14. Océano al Oeste de Australia _____
15. Serie de desiertos australianos _____

16. Golfo al Oeste de la Península de Cabo York _____
17. Río Afluente del Murray _____
18. Montes en Australia _____
19. Mar entre Tasmania y Nva. Zelandia _____

